


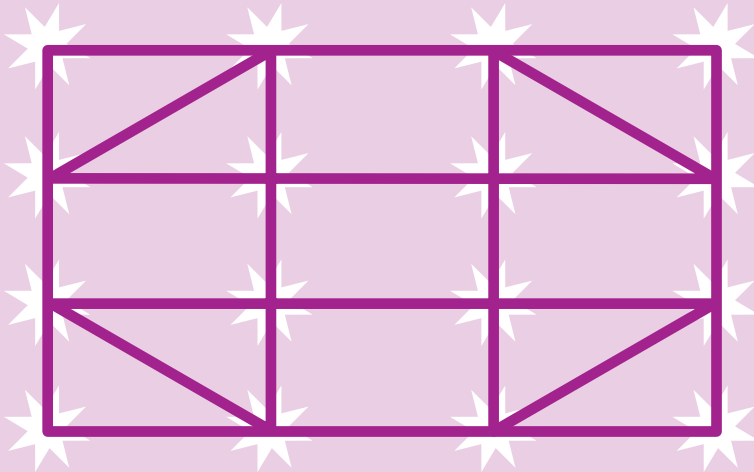
# Gimnasio cerebral

Activa tu cerebro con esta serie de desafiantes pruebas. Una vez lo hagas podrás retar a tus familiares y amigos. Encontrarás las respuestas en la siguiente página.



¿Puedes dibujar el gráfico que te mostramos a continuación, sin levantar el lápiz y sin repasar ninguna línea?


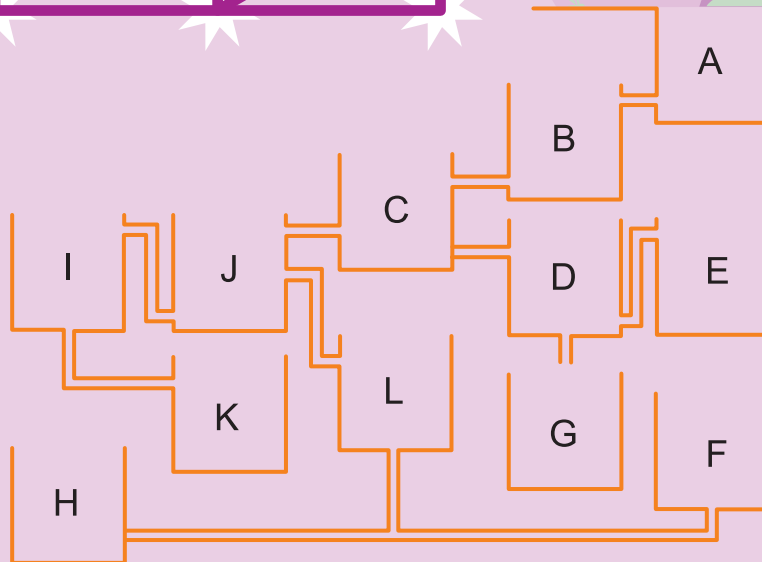
A la velocidad de la luz, Sofía, la astronauta debe hacer este recorrido por una constelación. Pero, ¡ojo! Como la gasolina de su cohete emite gases contaminantes, no puede malgastarla repitiendo ningún trayecto.

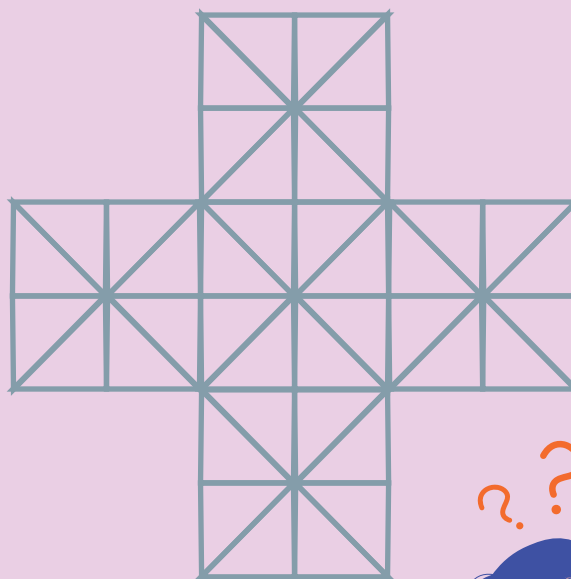



36

¿Qué tanque de agua se llenará primero?

Es deber de todos cuidar que no se pierda ni una gota de este precioso líquido. Ayúdale al operario a descubrir cuál tanque se llenará primero, para que él pueda cerrar la llave a tiempo.





¿Cuántos triángulos hay en este gráfico?

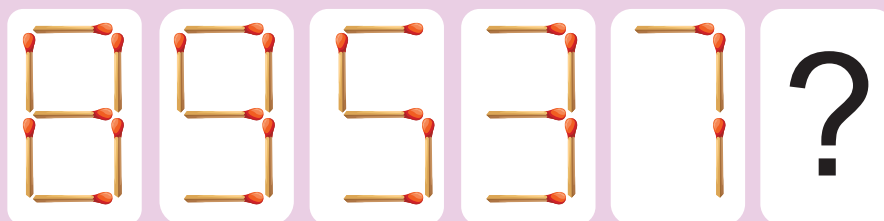
Piensa que hay muchos más que los pequeñitos que se distinguen a simple vista.



37

¿Puedes descubrir cuál es el siguiente número en la serie?

Pepita olvidó la clave de acceso a su computador. Solo le falta la última cifra. Resolviendo este acertijo le ayudarás a recordarla.



Respuestas:

Astronauta

Empieza en el punto. Los colores te ayudarán a seguir la línea.



Tanques

El tanque que se llenará primero es el «F». Si observas bien, notarás que los tanques «D» y «H» están sellados.

Triángulos

Hay 112 triángulos. Te ayudará saber que hay 5 tamaños diferentes.

Números

El siguiente número es el «1». En cada paso, el número de puntos de contacto entre fósforos disminuye de a uno.